

NYBÖRJARE I HÖGRE UTBILDNING 1959/60

Inskrivna nybörjare i högre utbildning läsåret 1959/60 uppdelade efter kön, studieinriktning samt faderns yrke.

Studieinriktning	Faderns yrke											
	Jordbruk med binärningar utom arb.	Folkskollärare m. fl.	Akademiker (ej annorstädes redovisade)	Officerare	Direktörer, disponenter, grosshandl.	Handlande, handlarsande, hantverksmäst.	Högre tjänste- män utom akademiker, vissa fria yrken	Övriga tjänstemän	Arbetare	Obestämt yrke	Uppgift saknas	Samtliga
Män												
Teologisk fakultet	21	4	27	2	6	7	16	19	18	—	7	127
Juridisk fakultet	19	12	126	10	54	42	62	35	30	—	19	409
Medicinsk fakultet	19	15	105	13	18	22	46	15	21	—	7	281
Humanistisk fakultet	137	89	320	21	96	213	252	179	295	5	95	1 702
Naturvetenskaplig fakultet	93	48	192	17	53	134	137	108	168	5	40	995
Teknisk högskola	81	36	174	12	66	94	167	102	167	3	17	919
Handelshögskola	14	7	51	8	49	57	49	31	41	1	6	314
Tandläkarhögskola	9	3	33	1	7	20	19	16	32	—	2	142
Farmaceutiska inst. apotekarlinjen	5	2	11	—	1	6	7	8	10	—	—	50
Farmaceutiska inst. receptarielinjen	1	—	—	—	1	—	1	—	—	—	—	3
Veterinärhögskolan	7	2	4	—	1	2	4	2	2	—	2	26
Skogshögskolan	11	2	6	1	—	2	5	—	4	—	2	33
Lantbrukshögskolan	26	—	3	—	—	1	1	2	3	—	—	36
Gymnastiska centralinstitutet	4	2	1	—	3	5	5	7	6	—	—	33
Sjukgymnastinstitut	—	—	—	—	1	—	—	—	—	—	—	1
Lärarhögskolans ämneslärarlinje..	4	3	3	1	2	4	3	4	7	—	1	32
Socialinstitut	21	1	6	—	1	8	13	8	51	—	6	115
Alnarps mejeritekniska linje	—	—	—	—	—	—	—	—	—	—	—	—
Folkskoleseminariums 2-åriga linje	25	7	14	1	6	29	24	25	74	—	5	210
Distriktsåklagarkursen	1	3	1	1	3	3	4	5	1	—	1	23
Handelsgymnasiums 1-åriga kurs	8	6	36	10	36	32	31	16	20	—	10	205
Statliga verkens utbildningslinjer..	15	7	4	1	2	9	15	15	31	—	—	99
Krigsskolorna	19	6	18	10	10	27	24	17	32	1	—	164
Inst. för reklamutb. o. Grafiska inst.	2	2	11	2	5	4	14	6	8	—	1	55
Samtliga	542	257	1 146	111	421	721	899	620	1 021	15	221	5 974
Kvinnor												
Teologisk fakultet	10	2	7	—	2	5	5	5	7	—	—	43
Juridisk fakultet	6	5	33	3	12	7	9	6	7	—	6	94
Medicinsk fakultet	7	3	34	—	6	6	15	4	6	—	—	81
Humanistisk fakultet	121	76	424	28	131	218	330	189	234	3	84	1 838
Naturvetenskaplig fakultet	40	23	78	4	24	34	48	33	47	1	14	346
Teknisk högskola	1	1	19	3	3	6	9	3	5	—	1	51
Handelshögskola	2	1	5	2	4	3	5	2	2	—	1	27
Tandläkarhögskola	2	5	22	1	5	8	20	4	9	—	1	77
Farmaceutiska inst. apotekarlinjen	2	1	7	—	—	6	5	1	3	—	—	25
Farmaceutiska inst. receptarielinjen	25	6	30	3	10	22	26	27	28	—	1	178
Veterinärhögskolan	1	—	3	—	—	—	1	—	—	—	—	5
Lantbrukshögskolan	1	—	—	1	—	—	—	—	—	—	—	2
Gymnastiska centralinstitutet	3	—	8	1	2	3	9	2	7	1	—	36
Sjukgymnastinstitut	10	4	44	3	20	14	24	5	4	—	1	129
Lärarhögskolans ämneslärarlinje..	2	—	6	1	1	4	5	3	3	—	—	25
Socialinstitut	22	2	21	3	4	20	18	11	31	—	2	134
Alnarps mejeritekniska linje	—	—	—	—	—	—	—	—	—	—	1	1
Folkskoleseminariums 2-åriga linje	26	24	43	2	12	33	38	37	51	—	3	269
Handelsgymnasiums 1-åriga kurs	18	10	34	1	26	42	42	20	32	1	5	231
Statliga verkens utbildningslinjer..	2	—	1	—	—	1	2	1	2	—	—	9
Inst. för reklamutb. o. Grafiska inst.	—	1	4	1	1	2	4	—	1	—	—	14
Samtliga	301	164	823	57	263	434	615	353	479	6	120	3 615
Båda könen	843	421	1 969	168	684	1 155	1 514	973	1 500	21	341	9 589



Allgot.se



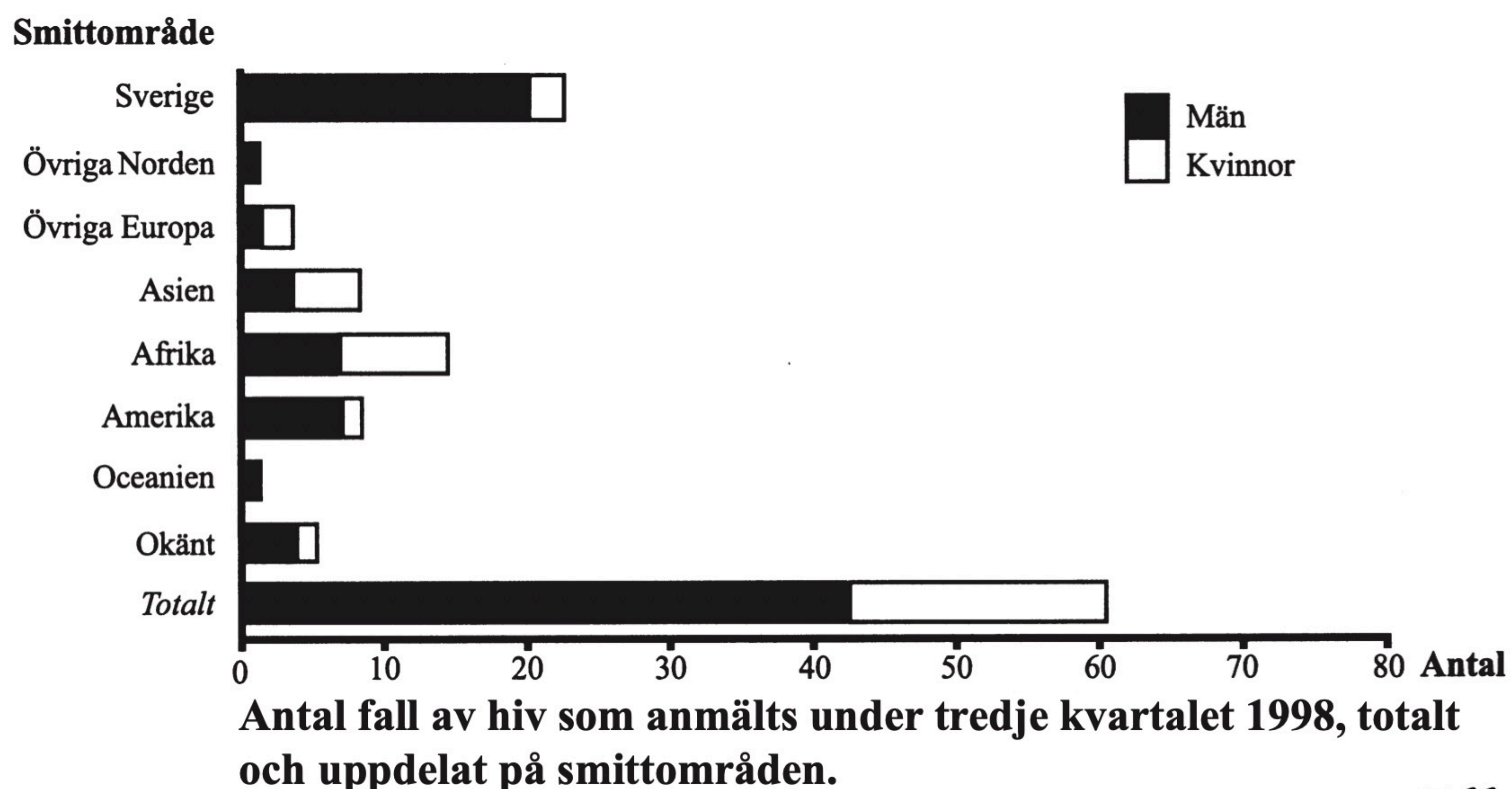

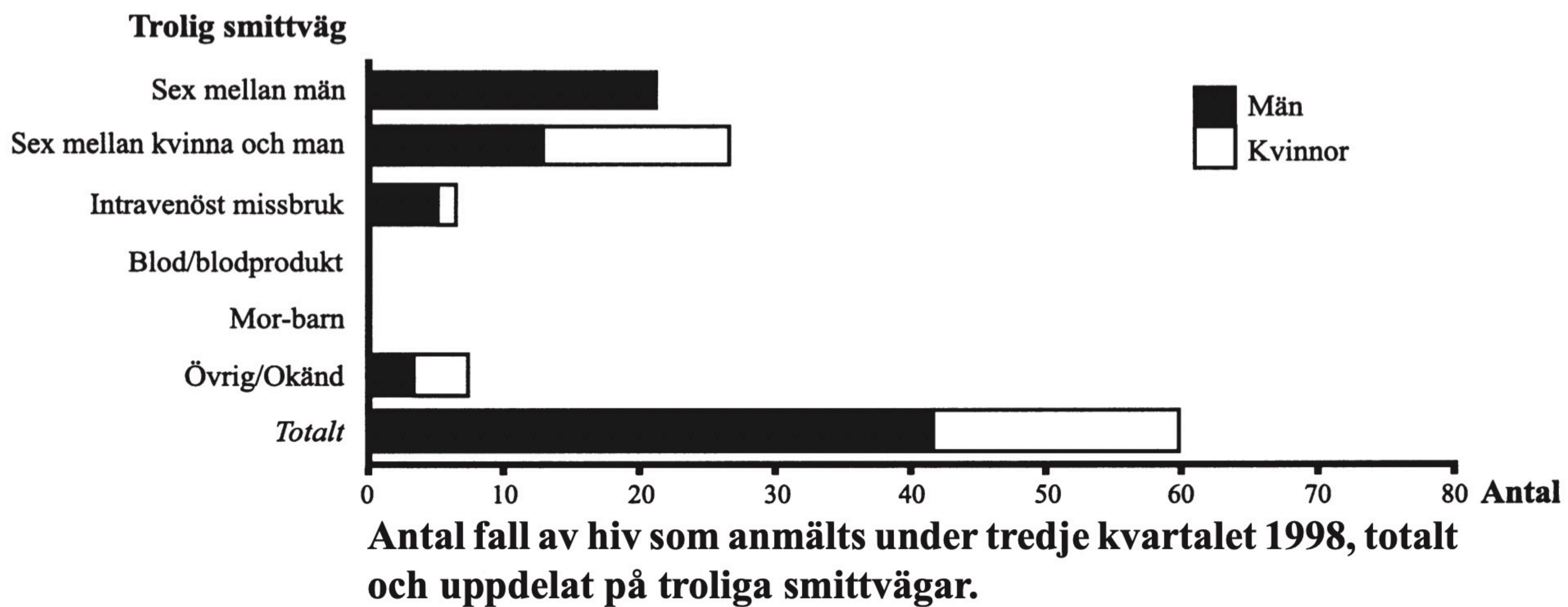
Skapa lektioner, planeringar och material på
Allgot.se - eller välj bland alla *tiotusentals*
 färdiga dokument som andra lärare skapat.

1. **Hur stor andel av männen som var nybörjare vid naturvetenskaplig fakultet hade en far som tillhörde gruppen "Akademiker" respektive "Arbetare"?**
 - A 10 respektive 5 procent
 - B 15 respektive 10 procent
 - C 20 respektive 15 procent
 - D 25 respektive 20 procent
 - E 30 respektive 25 procent

2. **Inom vilken av följande kategorier hade störst andel valt en studieinriktning i linje med sin fars yrke?**
 - A Manliga nybörjare vid lantbrukshögskolan
 - B Manliga nybörjare vid folkskoleseminariums 2-åriga linje
 - C Manliga nybörjare vid krigsskolorna
 - D Kvinnliga nybörjare vid lantbrukshögskolan
 - E Kvinnliga nybörjare vid folkskoleseminariums 2-åriga linje



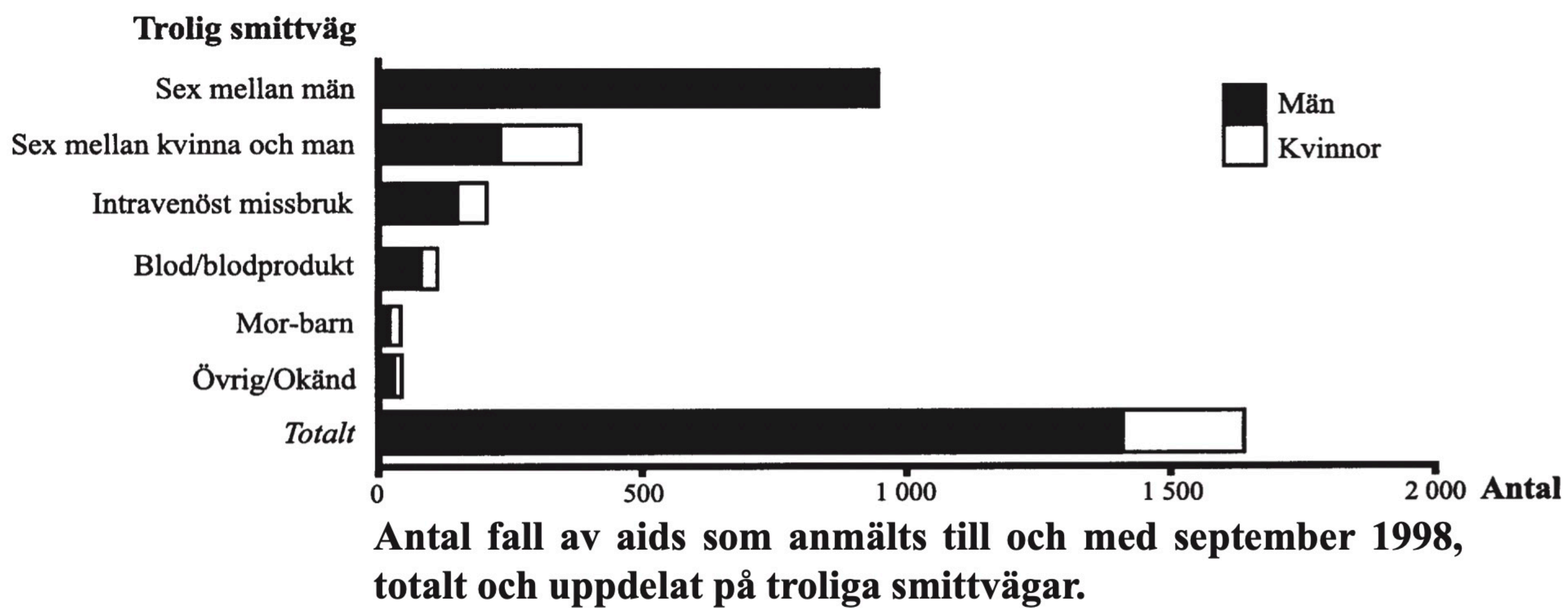
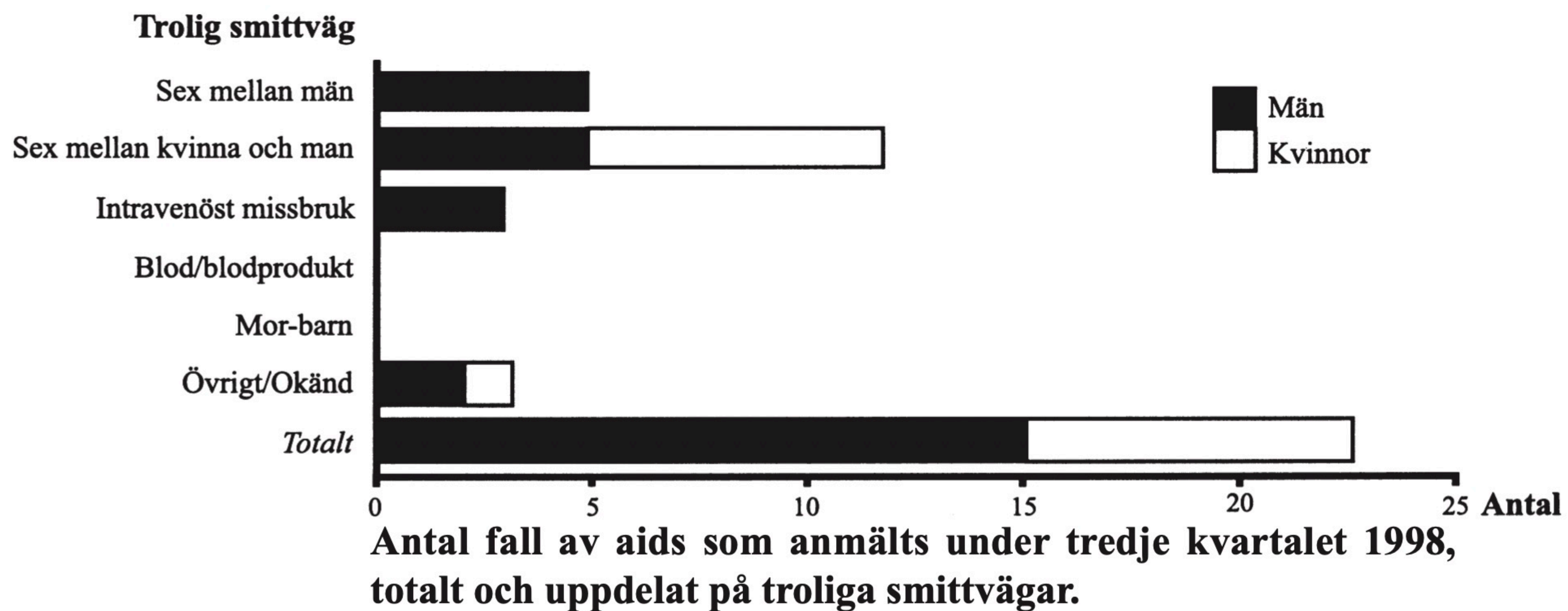
ANMÄLDA FALL AV HIV OCH AIDS I SVERIGE



Allgot.se



Skapa lektioner, planeringar och material på **Allgot.se** - eller välj bland alla *tiotusentals* färdiga dokument som andra lärare skapat.



3. I hur många av de aidsfall som anmäls till och med september 1998 var smittvägen troligen sexuellt umgänge?

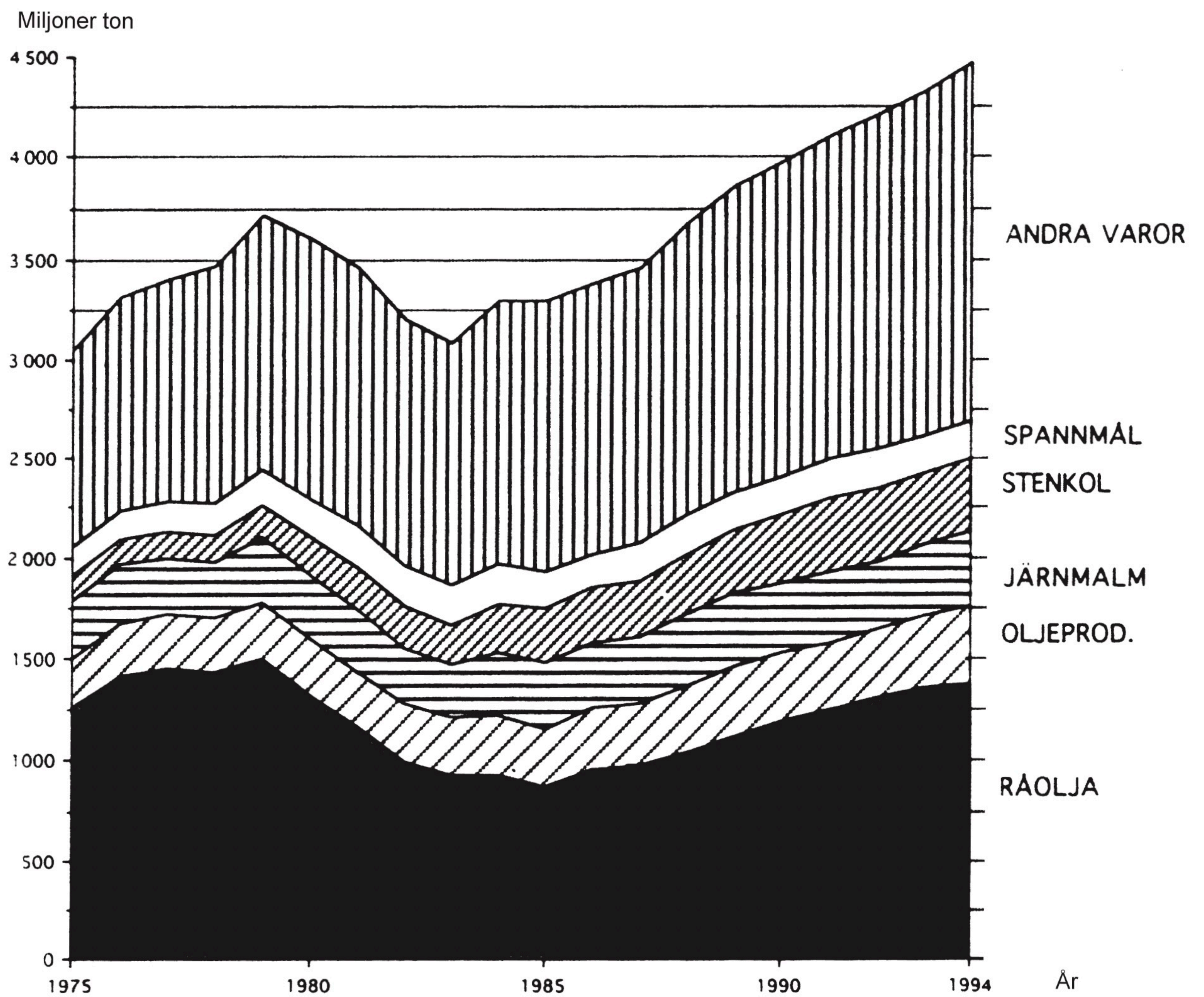
- A 350
- B 950
- C 1 300
- D 1 700
- E 3 700

4. Vilket var förhållandet mellan antalet fall av aids och antalet fall av hiv som anmäls till och med september 1998?

- A 1:5
- B 1:4
- C 1:3
- D 1:2
- E 2:3



INTERNATIONELL RÅVARUHANDEL



Volymen råvaror som transporterades i internationell sjöburen handel 1975–94 fördelad på råvarugrupper. Miljoner ton.



Allgot.se



Skapa lektioner, planeringar och material på **Allgot.se** – eller välj bland alla *tiotusentals* färdiga dokument som andra lärare skapat.

5. Hur stor var den sammanlagda volymen råolja och oljeprodukter jämfört med volymen järnmalm som transporterades 1990?

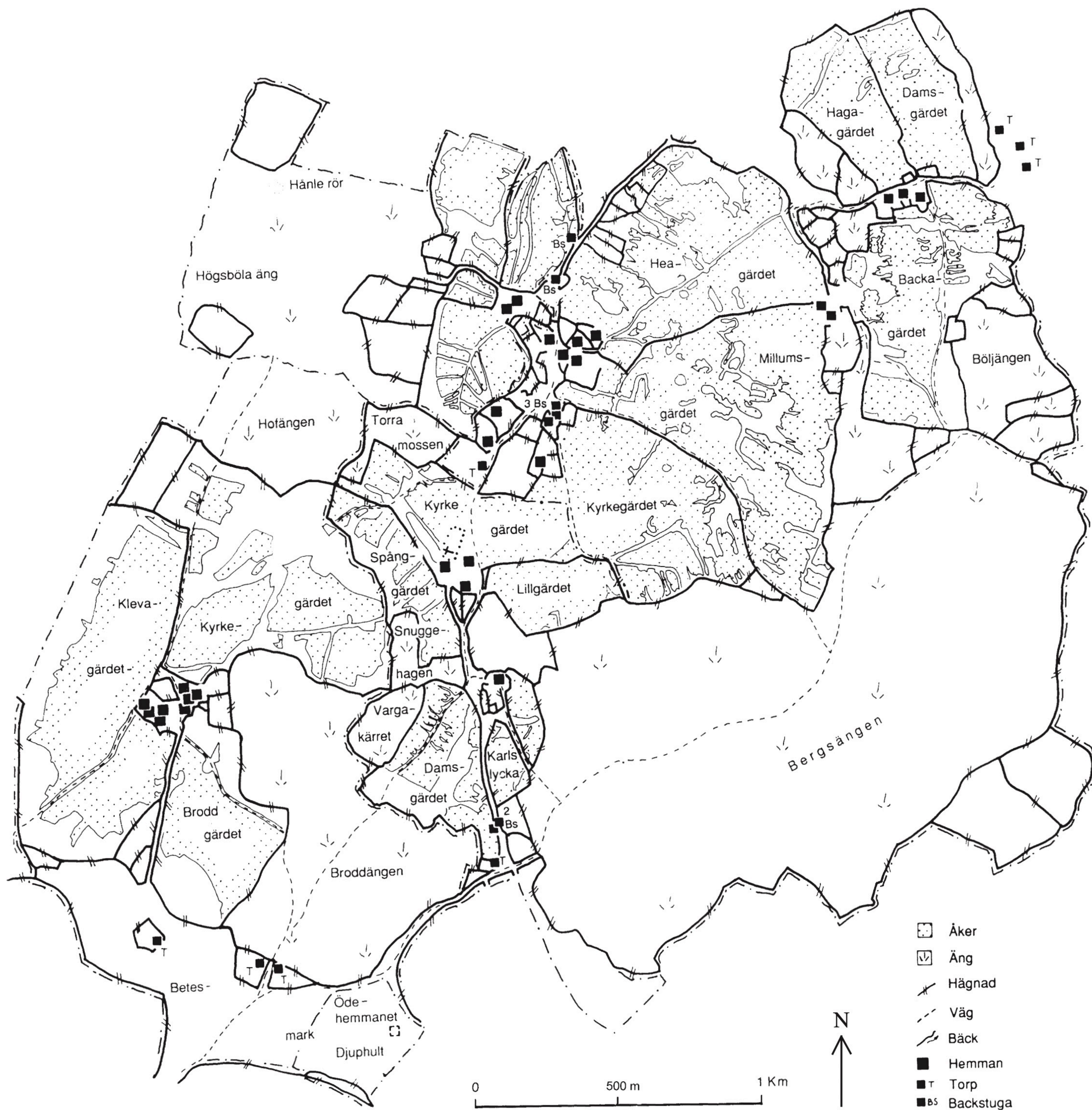
- A En fjärdedel så stor
- B Hälften så stor
- C Lika stor
- D Dubbelt så stor
- E Fyra gånger så stor

6. Vilket svarsförslag är korrekt?

- A År 1976 transporterades 1 700 miljoner ton oljeprodukter.
- B År 1978 transporterades 1 000 miljoner ton stenkol.
- C År 1980 transporterades 1 500 miljoner ton råolja.
- D År 1982 transporterades 3 200 miljoner ton andra varor.
- E År 1984 transporterades 200 miljoner ton spannmål.



BERGS SOCKEN UNDER 1700-TALET



Delar av Bergs socken i Västergötland under 1700-talet.



Allgot.se

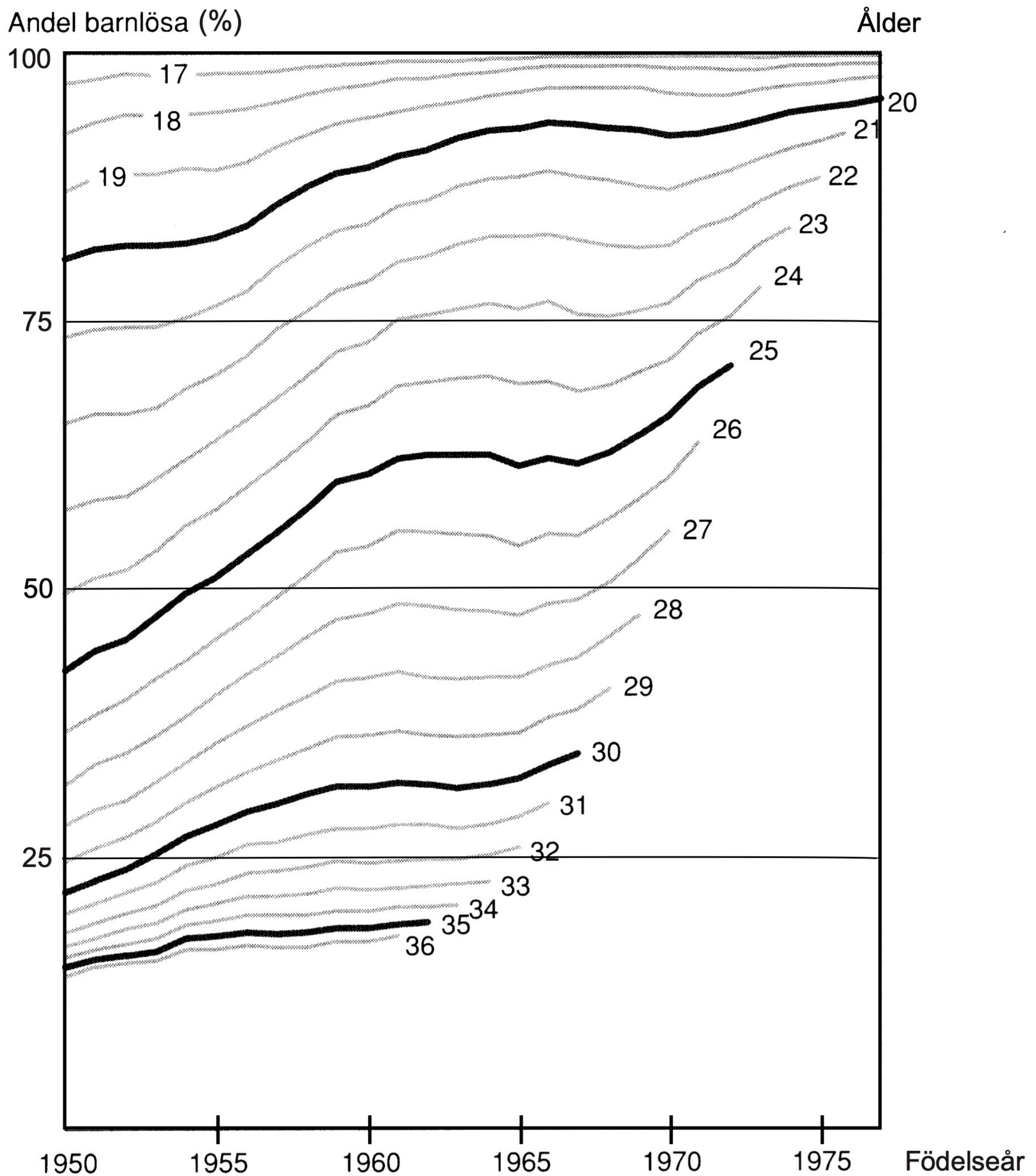


Skapa lektioner, planeringar och material på **Allgot.se** – eller välj bland alla *tiotusentals* färdiga dokument som andra lärare skapat.

7. **På vilket avstånd fågelvägen och i vilken riktning låg Ödehemmanet, sett från det västligast belägna hemmanet?**
- A 800 m, nordvästlig riktning
 - B 800 m, sydlig riktning
 - C 1 400 m, östlig riktning
 - D 1 400 m, sydöstlig riktning
 - E 1 400 m, nordöstlig riktning
8. **Hur mycket större var Bergsängens area jämfört med Broddängens area, om man förutsätter att respektive äng avgränsas av den innersta hägnaden?**
- A 0,5 km²
 - B 1,5 km²
 - C 2,5 km²
 - D 3,5 km²
 - E 4,5 km²



BARNLÖSHET I OLIKA ÅLDRAR



**Andel barnlösa bland kvinnor i åldrarna 17–36 år födda 1950–1977.
Procent.**

Exempel: Bland kvinnor födda 1960 var cirka 25 procent fortfarande barnlösa vid 32 års ålder. Cirka 75 procent av kvinnorna i denna årskull hade alltså fött minst ett barn.



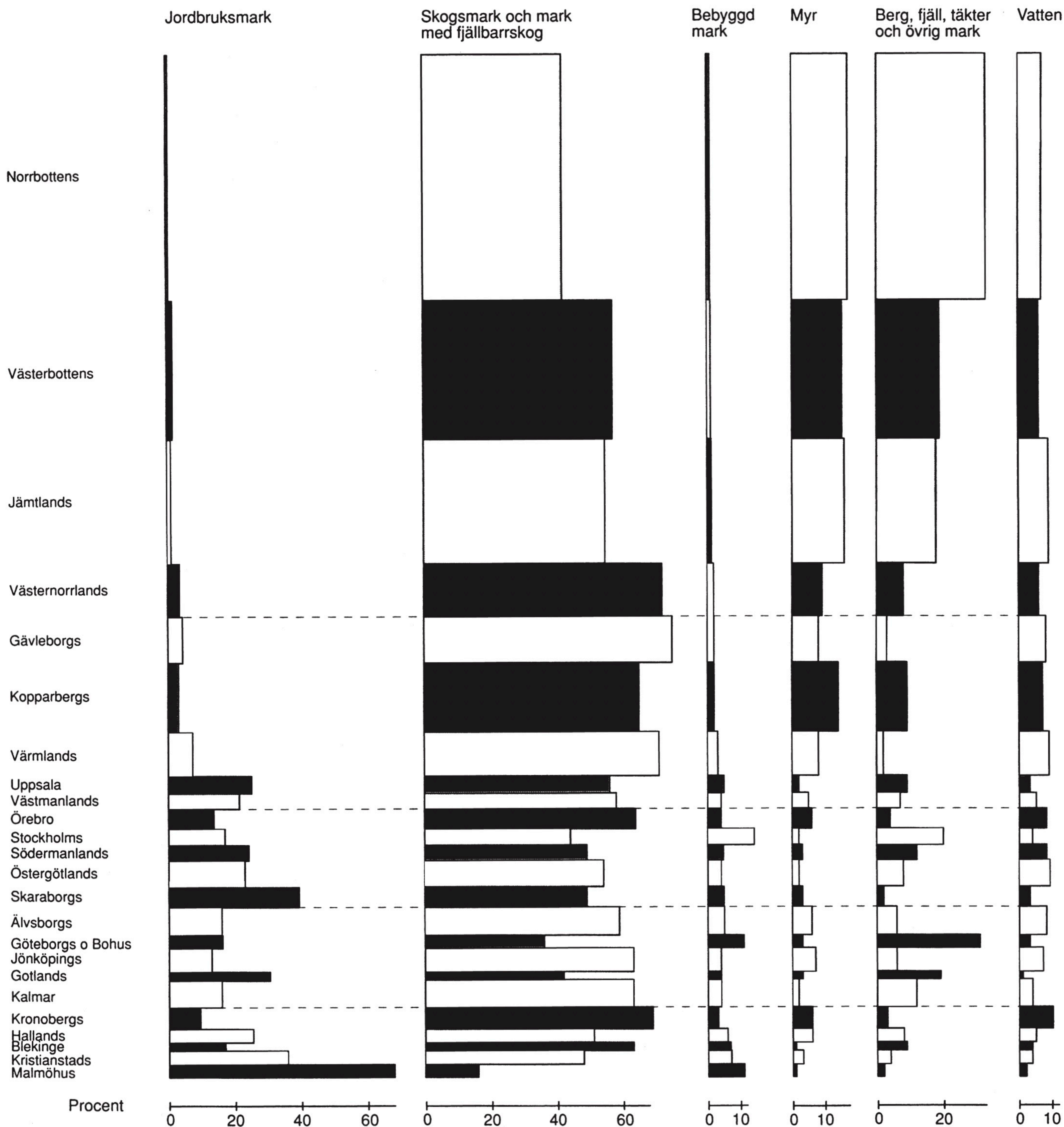
Allgot.se 

Skapa lektioner, planeringar och material på
Allgot.se – eller välj bland alla *tiotusentals*
färdiga dokument som andra lärare skapat.

9. **Vid vilken ålder hade ungefär hälften av de kvinnor som var födda år 1967 barn?**
- A 25 år
 - B 26 år
 - C 27 år
 - D 28 år
 - E 29 år
10. **Jämför kvinnor födda 1950 med kvinnor födda 1970. Hur stor var skillnaden vad gäller andelen barnlösa vid 25 års ålder?**
- A 15 procentenheter
 - B 25 procentenheter
 - C 45 procentenheter
 - D 65 procentenheter
 - E 75 procentenheter



MARKANVÄNDNINGEN I SVERIGE



De svenska länens totala arealer procentuellt fördelade efter användning omkring 1990. Den lodräta sidan på respektive fält är proportionell mot länets totala areal.



Allgot.se



Skapa lektioner, planeringar och material på Allgot.se - eller välj bland alla tiotusentals färdiga dokument som andra lärare skapat.

11. **I vilket län upptog jordbruksmark samt skogsmark och mark med fjällbarrskog sammanlagt störst andel av arealen?**

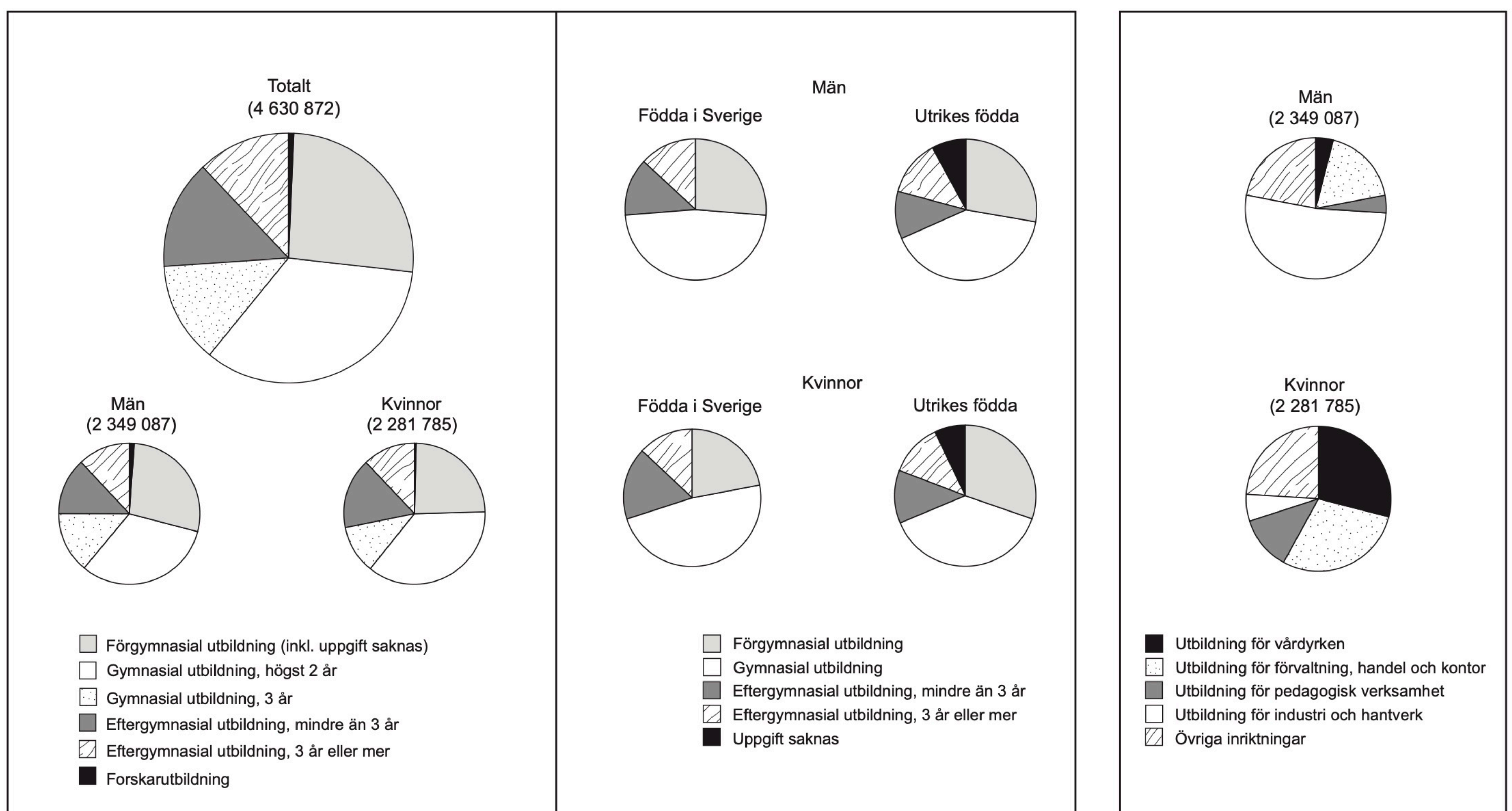
- A Norrbottens län
- B Gävleborgs län
- C Uppsala län
- D Skaraborgs län
- E Blekinge län

12. **Hur stor del av Norrbottens läns areal täckte de tre storstadslänen Stockholms län, Göteborgs och Bohus län samt Malmöhus län tillsammans?**

- A $1/2$
- B $1/3$
- C $1/4$
- D $1/6$
- E $1/10$



UTBILDNINGSNIVÅ OCH UTBILDNINGSDIRIKTION



Sveriges befolkning i åldrarna 25–64 år 1998 procentuellt fördelad efter utbildningsnivå¹. Cirklarna i det vänstra fältet visar antal och utbildningsnivå totalt samt uppdelat på kön. Cirklarna i det högra fältet visar utbildningsnivå för män och kvinnor födda i Sverige respektive utrikes födda.

Män respektive kvinnor i åldrarna 25–64 år 1998 procentuellt fördelade efter utbildningsinriktning.

¹ Avser högsta genomgångna utbildning.



13. Vilket av följande påståenden är korrekt vad avser utbildningen bland personer i åldrarna 25–64 år?

- A De med gymnasial utbildning 3 år var dubbelt så många som de med förgymnasial utbildning (inkl. uppgift saknas).
- B Kvinnorna med gymnasial utbildning högst 2 år var fem gånger så många som kvinnorna med eftergymnasial utbildning mindre än 3 år.
- C De utrikes födda männen med gymnasial utbildning var tre gånger så många som de utrikes födda männen med eftergymnasial utbildning 3 år eller mer.
- D De svenskfödda kvinnorna med förgymnasial utbildning var dubbelt så många som de svenskfödda kvinnorna med gymnasial utbildning.
- E Männen med utbildning för industri och hantverk var fyra gånger så många som männen med utbildning för förvaltning, handel och kontor.

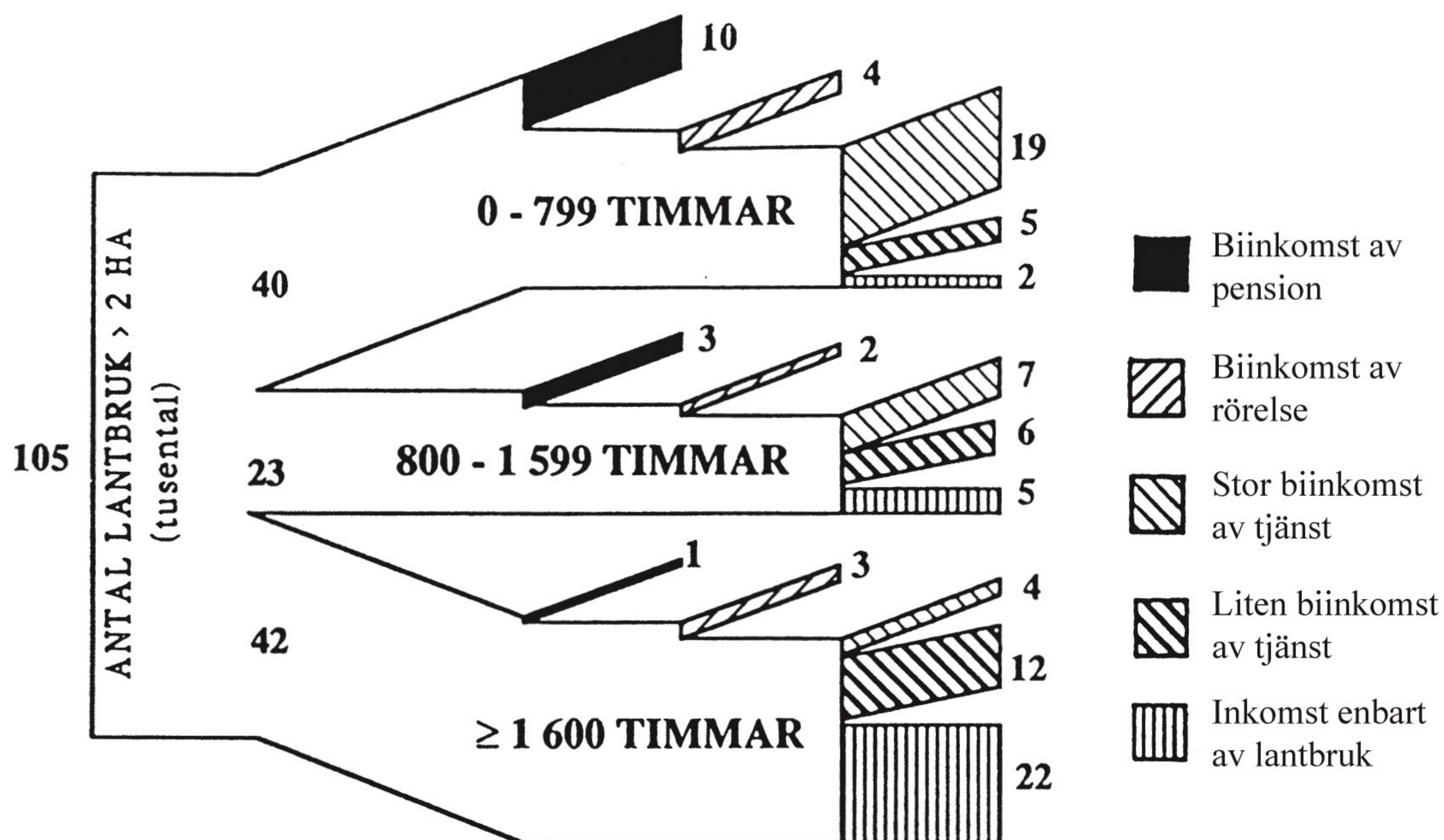
14. Hur många fler kvinnor i åldrarna 25–64 år var utbildade för vårdyrken jämfört med för pedagogisk verksamhet?

- A 250 000
- B 400 000
- C 550 000
- D 650 000
- E 800 000

FORTSÄTT PÅ NÄSTA SIDA



SVENSKA LANTBRUKSFÖRETAG



Svenska lantbruksföretag med mer än 2 hektar (ha) åker 1985 fördelade efter arbetsbehov i timmar respektive brukarefamiljens inkomstslag. Antal i tusental.

Företagets arbetsbehov	Familjens inkomstslag		
	Biinkomst av rörelse el. tjänst	Inkomst enbart av lantbruk	Biinkomst av pension
< 800 tim	Fritidslantbruk	Små lantbruk/ heltid	Pensionärs- lantbruk
800- 1 599 tim	Små lantbruk/ deltid		
≥ 1 600 tim	Större lantbruk/ deltid	Större lantbruk/ heltid	

Schema för klassificering av lantbruksföretag utifrån brukarefamiljens inkomstslag och företagets arbetsbehov.



Allgot.se



Skapa lektioner, planeringar och material på Allgot.se - eller välj bland alla tiotusentals färdiga dokument som andra lärare skapat.

15. Hur många "små lantbruk/deltid" fanns det 1985?

- A 2 000
- B 7 000
- C 9 000
- D 13 000
- E 15 000

16. Vilket inkomstslag var vanligast bland brukarefamiljerna 1985?

- A Biinkomst av pension
- B Biinkomst av rörelse
- C Stor biinkomst av tjänst
- D Liten biinkomst av tjänst
- E Inkomst enbart av lantbruk



BOKMARKNADEN I SVERIGE 1990/91–1996

Utgivna titlar 1990/91–1996 fördelade på litteraturkategorier. Antal.

Kategori	1990/91	1991/92	1992/93	1993	1994	1995	1996
Skönlitteratur:							
Lyrik & dramatik	87	74	67	82	75	61	70
Annan svensk	323	312	279	287	328	316	285
Annan översättning	367	373	343	323	325	296	300
Summa original	777	759	689	692	728	673	655
Återutgivning							
Pocket	301	257	277	238	227	291	239
Reprint	234	218	182	221	221	253	223
Summa skönlitteratur	1 312	1 234	1 148	1 151	1 176	1 217	1 117
Barn- & ungdomsböcker:							
Summa original	606	651	593	590	600	576	626
Återutgivning							
Pocket	7	6	11	15	19	23	2
Reprint	187	115	128	139	111	228	93
Summa barn- och ungdoms- böcker	800	772	721	729	730	827	721
Facklitteratur:							
Summa original	1 079	1 108	1 124	1 313	1 362	1 356	1 514
Återutgivning							
Pocket	42	45	27	13	22	29	41
Reprint	65	54	62	155	145	119	114
Summa facklitteratur	1 186	1 207	1 213	1 481	1 529	1 504	1 669
Elektronisk utgivning:							
Egenproducerade	-	-	-	-	-	-	46
Lokaliserade	-	-	-	-	-	-	9
Summa elektronisk utgivning	-	-	-	-	-	-	55
Uppslagsverk	5	3	3	10	11	30	24
TOTALT	3 303	3 216	3 085	3 371	3 446	3 578	3 586

Tryckta volymer 1990/91–1996 fördelade på litteraturkategorier. Antal i tusental.

Kategori	1990/91	1991/92	1992/93	1993	1994	1995	1996
Skönlitteratur:							
Lyrik & dramatik	238	157	167	165	112	119	192
Annan svensk	2 101	2 515	2 331	2 033	2 141	2 198	2 135
Annan översättning	3 565	3 354	2 990	2 477	2 615	2 603	2 280
Summa original	5 904	6 026	5 488	4 675	4 868	4 920	4 608
Återutgivning							
Pocket	3 465	2 395	2 067	2 077	2 192	2 554	2 179
Reprint	4 068	3 642	2 906	3 091	2 870	3 320	2 732
Summa skönlitteratur	13 437	12 063	10 461	9 843	9 930	10 794	9 519
Barn- & ungdomsböcker:							
Summa original	5 298	6 577	6 314	4 779	5 041	3 703	4 374
Återutgivning							
Pocket	42	22	95	104	99	130	9
Reprint	1 974	780	918	1 369	809	1 949	706
Summa barn- och ungdoms- böcker	7 314	7 379	7 327	6 252	5 950	5 782	5 089
Facklitteratur:							
Summa original	7 124	7 298	6 558	6 915	6 985	7 428	7 212
Återutgivning							
Pocket	235	307	185	184	192	196	223
Reprint	612	348	536	792	883	799	685
Summa facklitteratur	7 971	7 953	7 279	7 891	8 059	8 423	8 121
Elektronisk utgivning:							
Egenproducerade	-	-	-	-	-	-	73
Lokaliserade	-	-	-	-	-	-	-
Summa elektronisk utgivning	-	-	-	-	-	-	-
Uppslagsverk	127	45	23	248			
TOTALT	28 849	27 440	25 090	24 235			



Allgot.se



Skapa lektioner, planeringar och material på
Allgot.se – eller välj bland alla *tiotusentals*
färdiga dokument som andra lärare skapat.

Sålda volymer 1990/91–1996 fördelade på litteraturkategorier. Antal i tusental.

Kategori	1990/91	1991/92	1992/93	1993	1994	1995	1996
Skönlitteratur:							
Lyrik & dramatik	140	77	99	74	44	64	84
Annan svensk	1 381	1 694	1 616	1 386	1 455	1 447	1 344
Annan översättning	2 380	1 996	2 007	1 745	1 734	1 732	1 611
Summa original	3 901	3 767	3 722	3 205	3 233	3 242	3 039
Återutgivning							
Pocket	1 980	1 253	1 311	1 343	1 372	1 467	1 437
Reprint	2 848	2 600	2 281	2 313	2 098	2 181	1 882
Summa skönlitteratur	8 729	7 620	7 314	6 861	6 703	6 891	6 348
Barn- & ungdomsböcker:							
Summa original	3 352	3 758	3 842	3 257	2 745	2 270	2 866
Återutgivning							
Pocket	19	10	32	36	46	38	2
Reprint	997	355	585	550	513	1 001	420
Summa barn- och ungdoms- böcker	4 368	4 123	4 459	3 842	3 304	3 308	3 288
Facklitteratur:							
Summa original	3 861	3 906	3 558	4 089	3 960	4 201	3 787
Återutgivning							
Pocket	101	135	103	136	100	98	105
Reprint	408	208	294	469	515	511	415
Summa facklitteratur	4 370	4 249	3 955	4 694	4 575	4 810	4 307
Elektronisk utgivning:							
<i>Uppslagsverk</i>	83	36	15	128	128	196	167
TOTALT	17 550	16 028	15 743	15 526	14 710	15 205	14 157

17. Antalet sålda volymer av barn- och ungdomsböcker var mindre 1996 än 1990/91. Hur många färre exemplar såldes av originaltitlar respektive återutgivna titlar inom denna kategori?

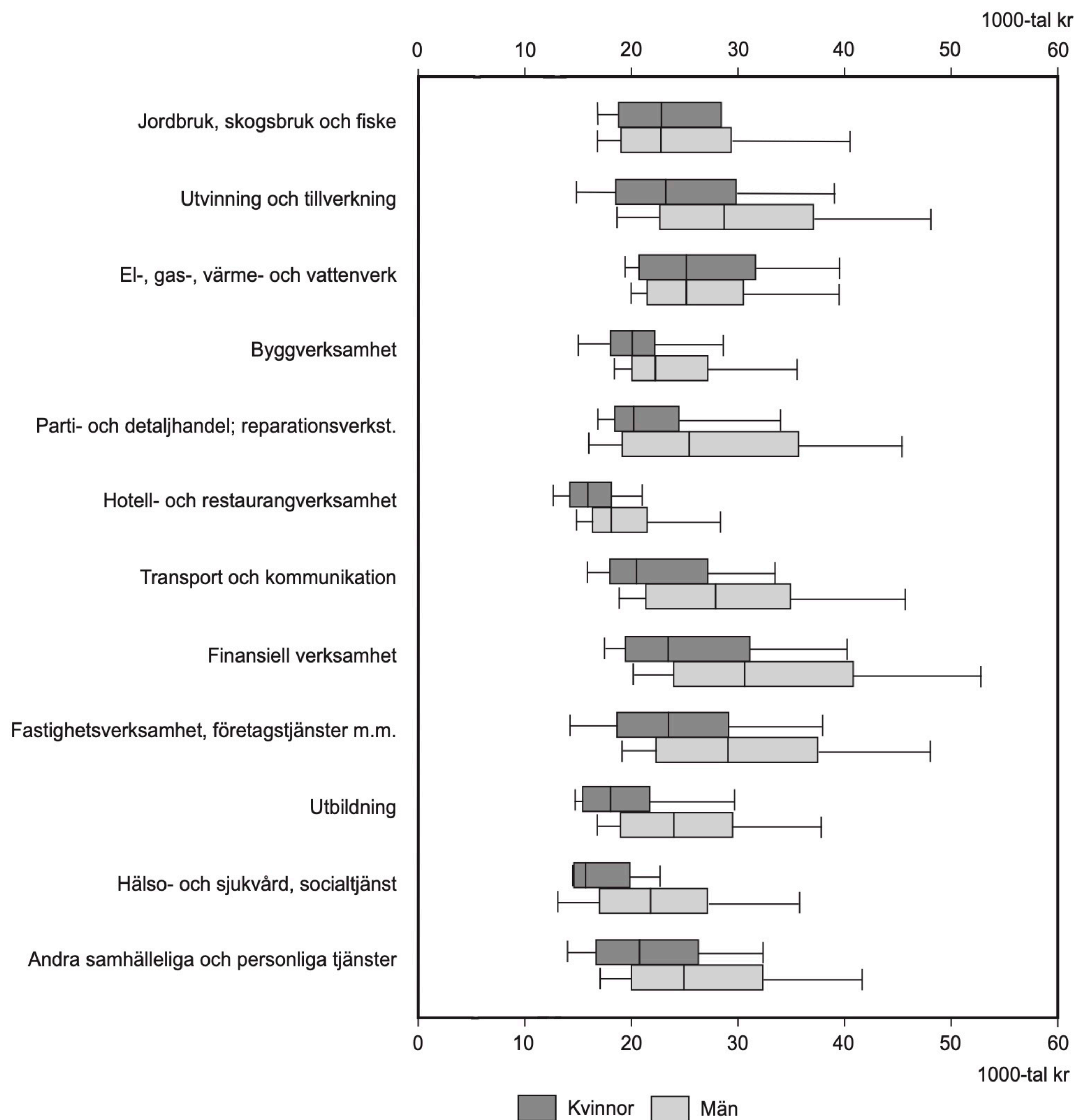
- A 486 000 respektive 594 000
 B 486 000 respektive 1 080 000
 C 577 000 respektive 1 080 000
 D 924 000 respektive 1 301 000
 E 2 866 000 respektive 422 000

18. Hur stort var det genomsnittliga antalet tryckta volymer per titel för den återutgivna skönlitteraturen 1996?

- A 1 000 volymer/titel
 B 5 000 volymer/titel
 C 7 000 volymer/titel
 D 10 000 volymer/titel
 E 14 000 volymer/titel

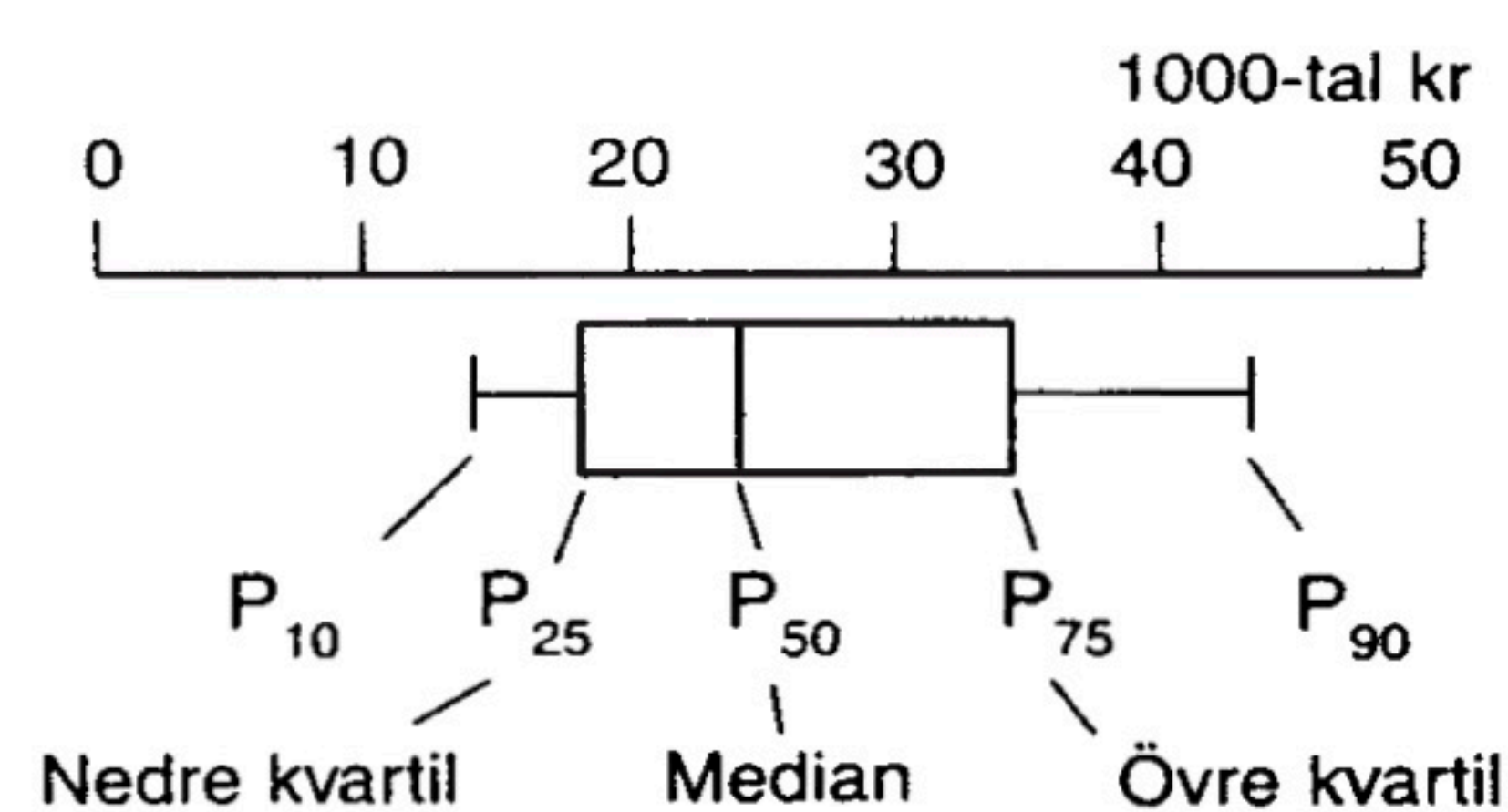


LÖNESPRIDNING FÖR CHEFER



Lönespridning vad gäller månadslön 1995 bland chefer inom privat sektor uppdelade efter näringsgren och kön. Tusental kronor.

Förklaringar och definitioner



P₁₀ är den lön under vilken 10 procent av gruppen ligger
 P₂₅ är den lön under vilken 25 procent av gruppen ligger
 P₅₀ är den lön under vilken 50 procent av gruppen ligger
 P₇₅ är den lön under vilken 75 procent av gruppen ligger
 P₉₀ är den lön under vilken 90 procent av gruppen ligger

P₂₅ kallas också *nedre kvartilen*, P₅₀ för *medianen* och P₇₅ för *övre kvartilen*.



Allgot.se



Skapa lektioner, planeringar och material på
Allgot.se – eller välj bland alla *tio tusentals*
 färdiga dokument som andra lärare skapat.

19. Hur stor andel av de kvinnliga cheferna inom näringsgrenen "Hälsa- och sjukvård, socialtjänst" hade en lön på minst 20 000 kronor?

- A 10 procent
- B 25 procent
- C 45 procent
- D 75 procent
- E 90 procent

20. Hur stor var skillnaden i medianlön mellan de chefer som hade högst respektive lägst P_{90} ?

- A 15 000 kr
- B 20 000 kr
- C 35 000 kr
- D 40 000 kr
- E 50 000 kr

PROVET ÄR SLUT. OM DU HAR TID ÖVER, GÅ TILL
TROLLERADINA SVAR.



Allgot.se 

Skapa lektioner, planeringar och material på
Allgot.se - eller välj bland alla *tiotusentals*
färdiga dokument som andra lärare skapat.