

Ämnesprov, läsår 2012/2013

Geografi

Delprov B

Årskurs

6

Elevens namn och klass/grupp

Prov som återanvänds omfattas av sekretess enligt
17 kap. 4 § offentlighets- och sekretesslagen.
Detta prov återanvänds t.o.m. **2013-06-30.**












Allgot.se

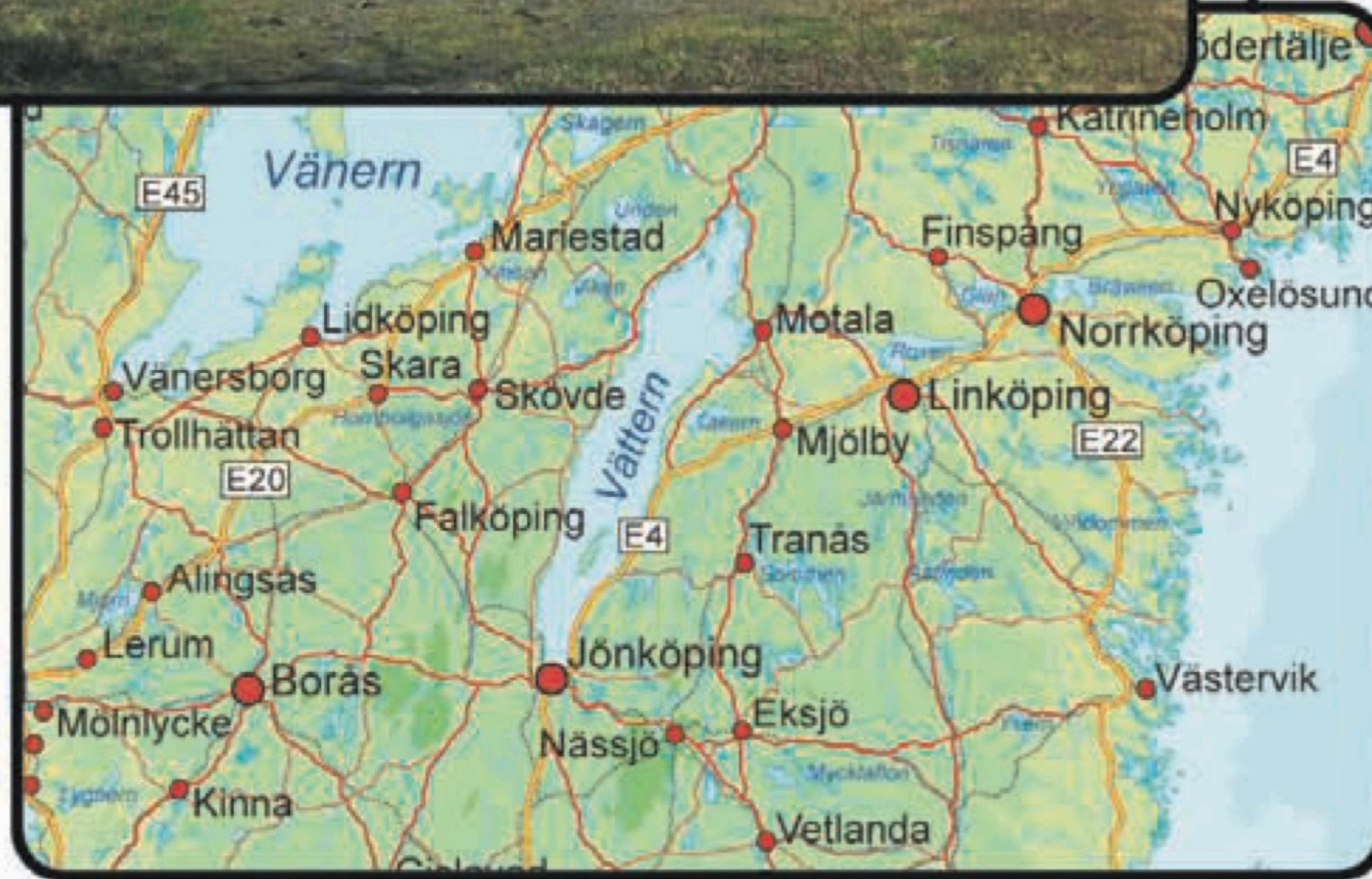


Skapa lektioner, planeringar och material på
Allgot.se - eller välj bland alla *tiotusentals*
färdiga dokument som andra lärare skapat.



Teckenförklaring

-  Fornlämning
-  Gästhamn
-  Gård
-  Herrgård
-  Hus
-  Kyrka
-  Idrottsplats
-  Badplats
-  Campingplats



© 2013 Norstedts Kartor, Stockholm



Kartans tecken

12

Studera kartans teckenförklaring och svara på frågorna.

K = Den här symbolen betyder att du ska använda kartbladet.



a) Vattendragen på kartan har _____ färg.

b) Bebyggelse på kartan har _____ färg.

c) Gul färg på kartan betyder _____

d) Grön färg på kartan betyder _____

e) Rita hur en fornlämning markeras på kartan:

f) Rita hur en bilväg markeras på kartan:

13

Vilken plats passar till vilken beskrivning? Skriv rätt bokstav efter varje beskrivning. Obs! En plats kan passa till flera beskrivningar.



A Kvarnbyn

B Sågsvedjan

C Skolbyn

a) Ligger nära ett industriområde: _____

b) Ligger vid en idrottsplats: _____

c) Ligger nära en badplats: _____

d) Ligger vid en kyrka: _____

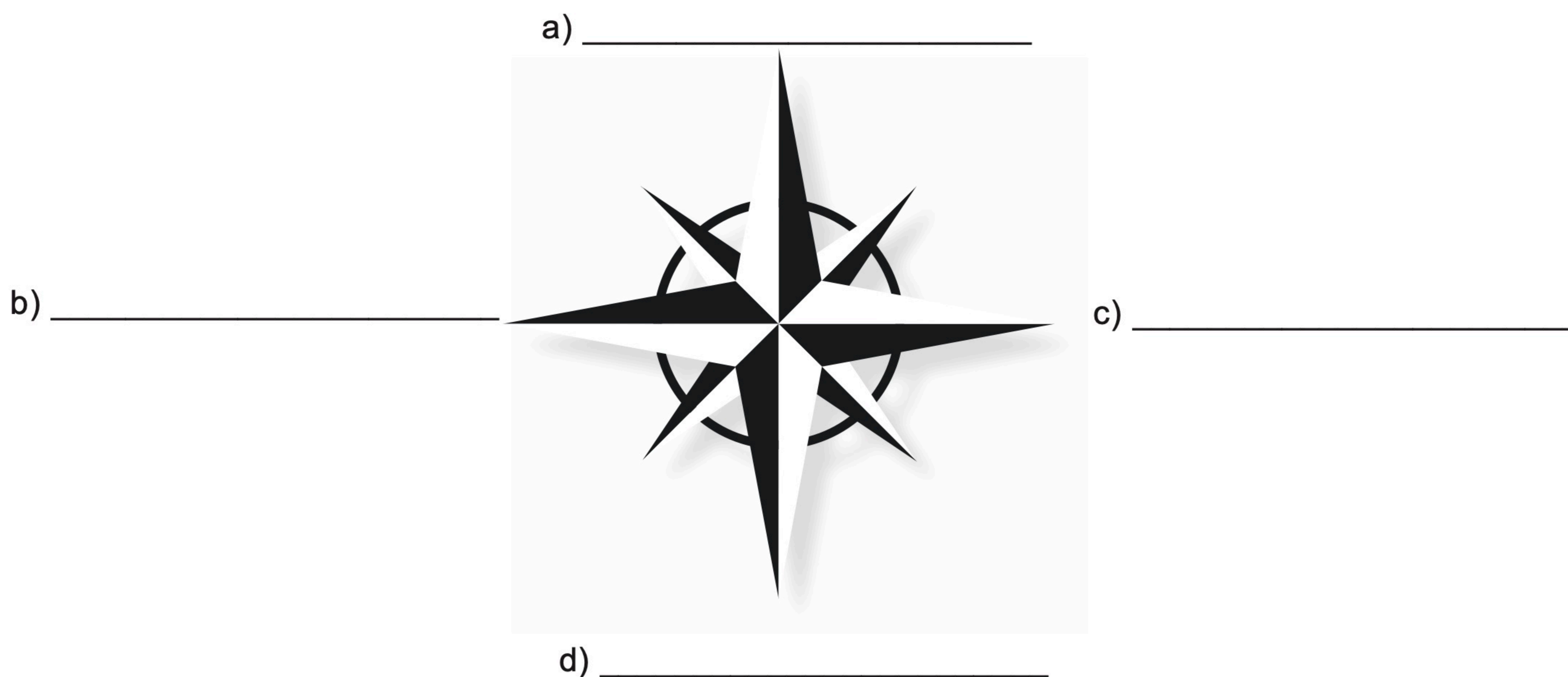
e) Ligger vid en gästhamn: _____



Kartans väderstreck

14

Skriv de fyra väderstrecken vid kompassrosen:



15

Vilken plats passar till vilken beskrivning? Skriv rätt bokstav efter varje beskrivning. Obs! En plats kan passa till flera beskrivningar.



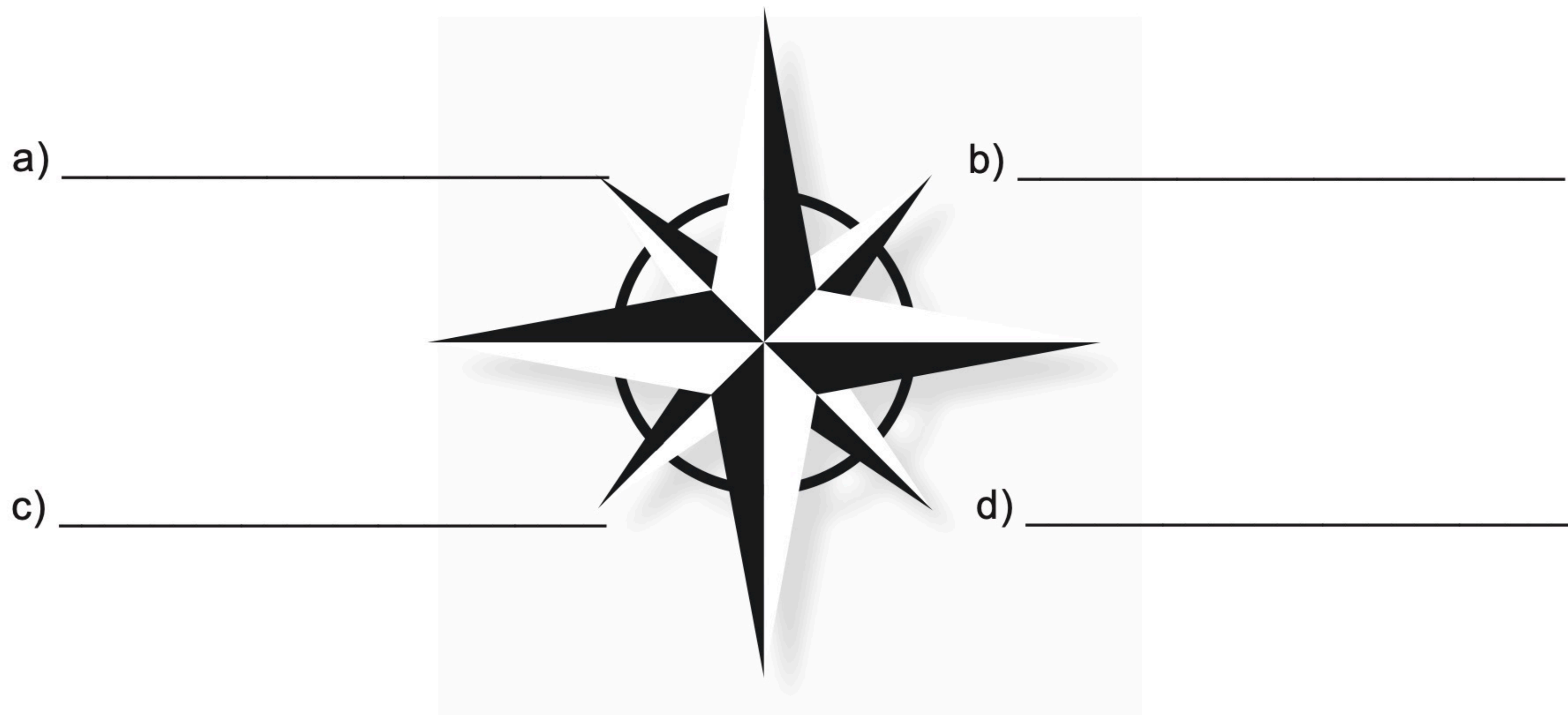
A Kvarnbyn B Sågsvedjan C Skolbyn

- a) Ligger sydligast av de tre platserna: _____
- b) Ligger öster om de båda andra platserna: _____
- c) Ligger söder om Koberget: _____
- d) Ligger norr om järnvägen: _____



16

Skriv de fyra väderstrecken vid kompassrosen:



17

Studera kartan och fyll i rätt väderstreck på raderna.



a) Du står på Koberget. I vilket väderstreck ligger Havregården?

Svar: _____

b) Du befinner dig vid Havregården. I vilket väderstreck ligger Bladbacken?

Svar: _____

c) Du befinner dig vid Bladbacken. I vilket väderstreck ligger Sågsvedjan?

Svar: _____



Kartan i fältstudier

18

Bilderna är tagna från en fältstudie i området.

Vilken bild passar till vilken plats på kartan? Studera bilderna och skriv in siffrorna i rutorna på kartan.



1



2



3



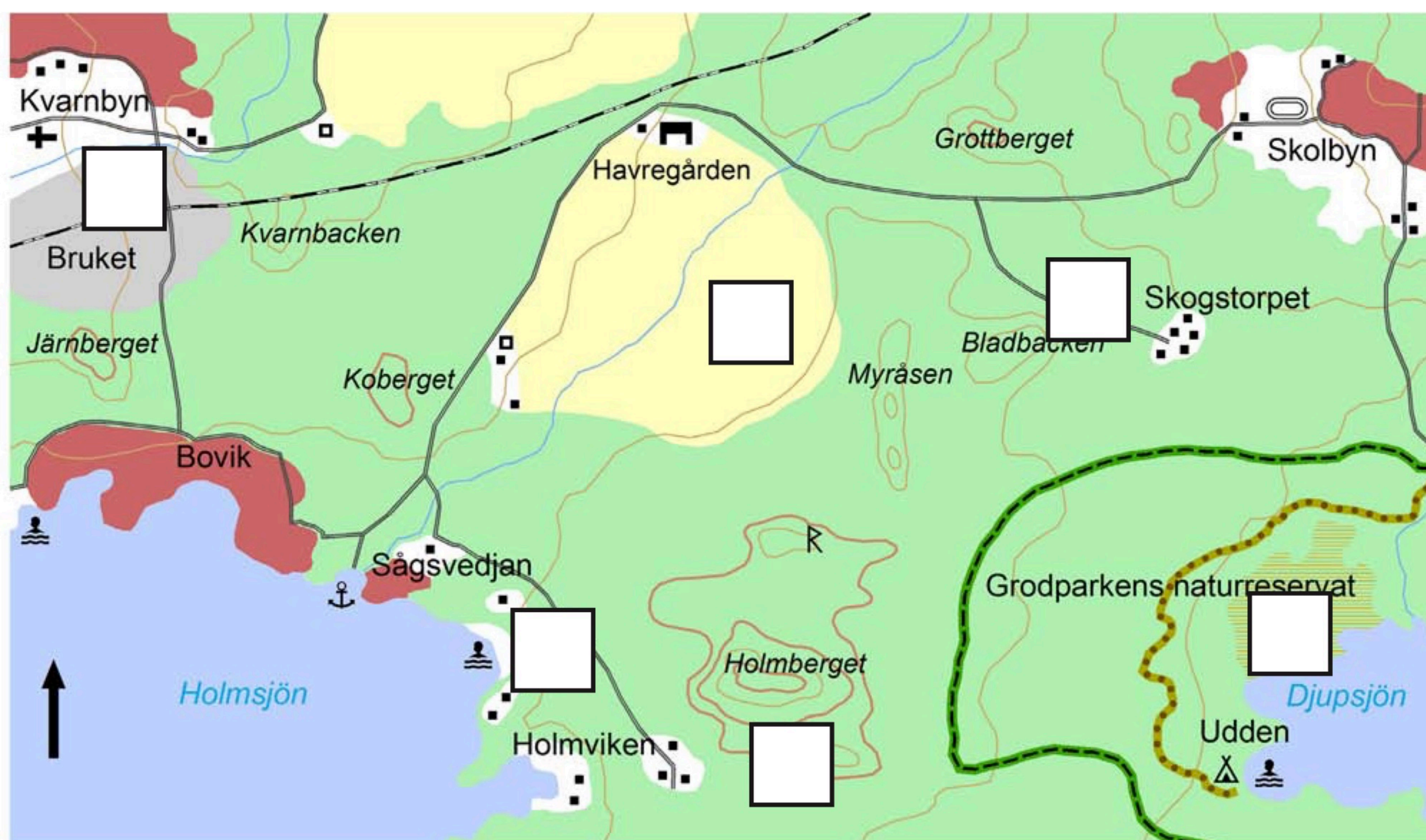
4



5



6



Kartans skala

20

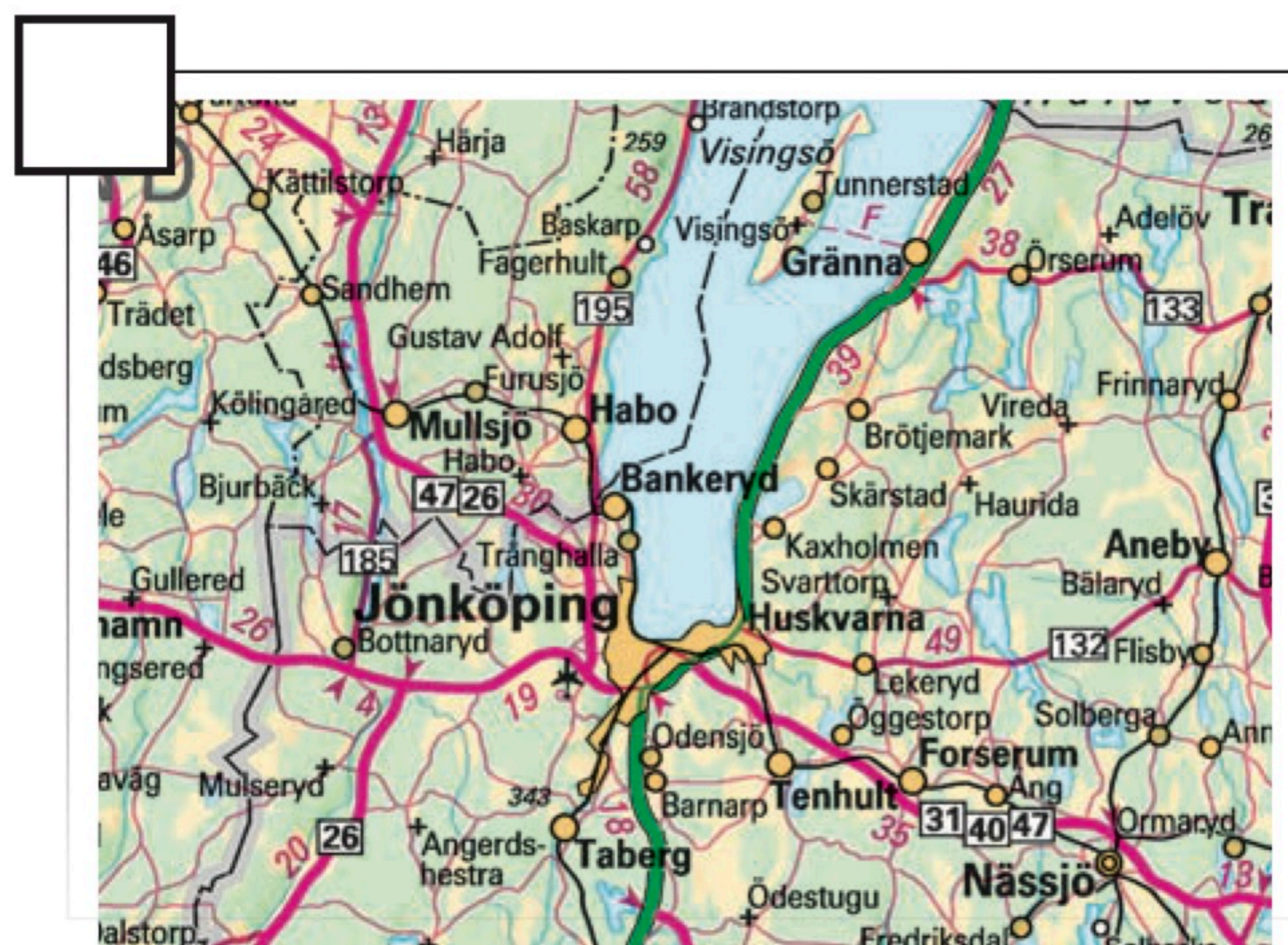
Para ihop rätt skala med rätt karta. Skriv rätt bokstav i rutorna.

- A) 1 : 20 000
- B) 1 : 1 000 000
- C) 1 : 5 000 000
- D) 1 : 25 000 000



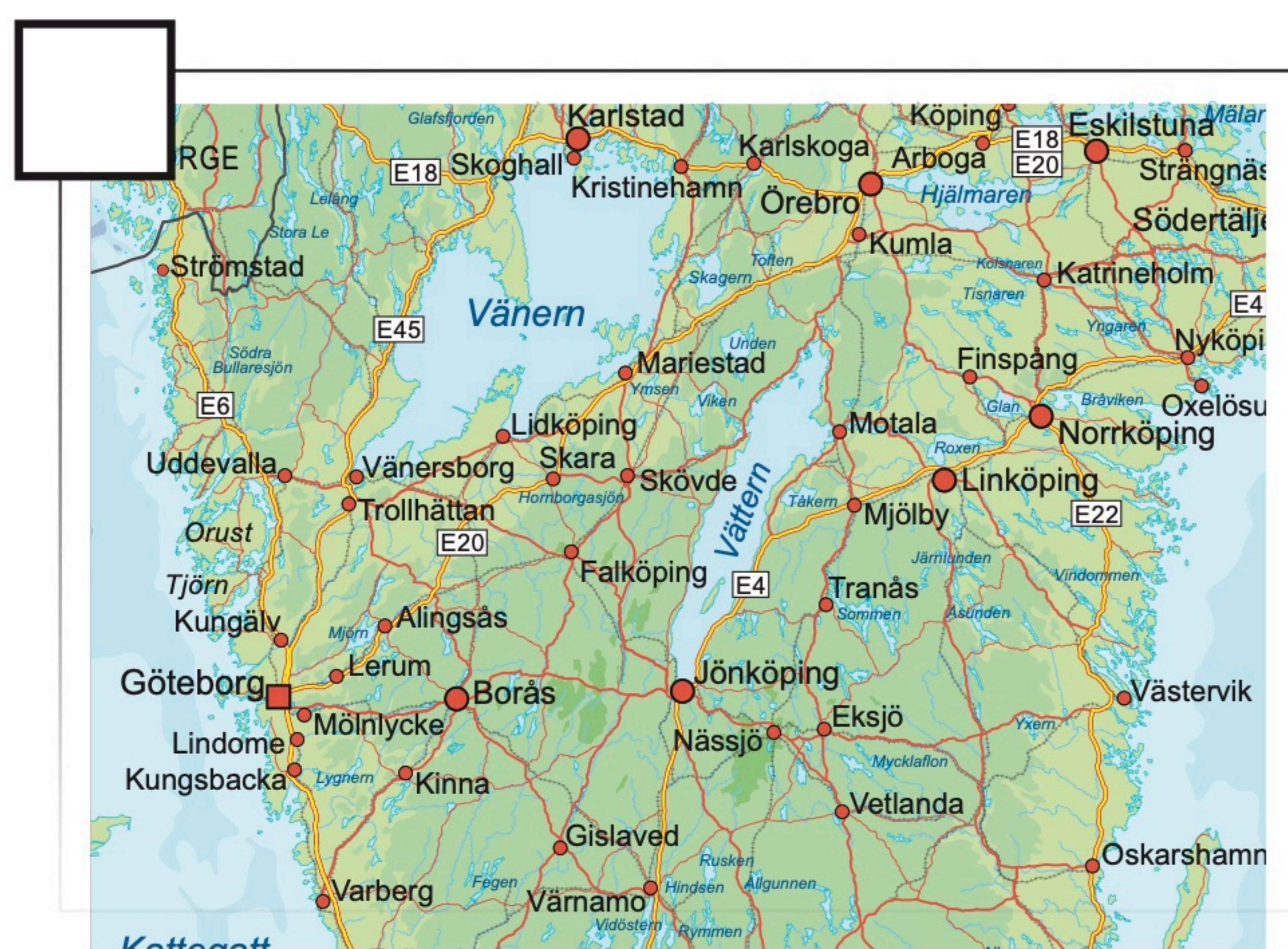
1

© 2013 Norstedts Kartor, Stockholm



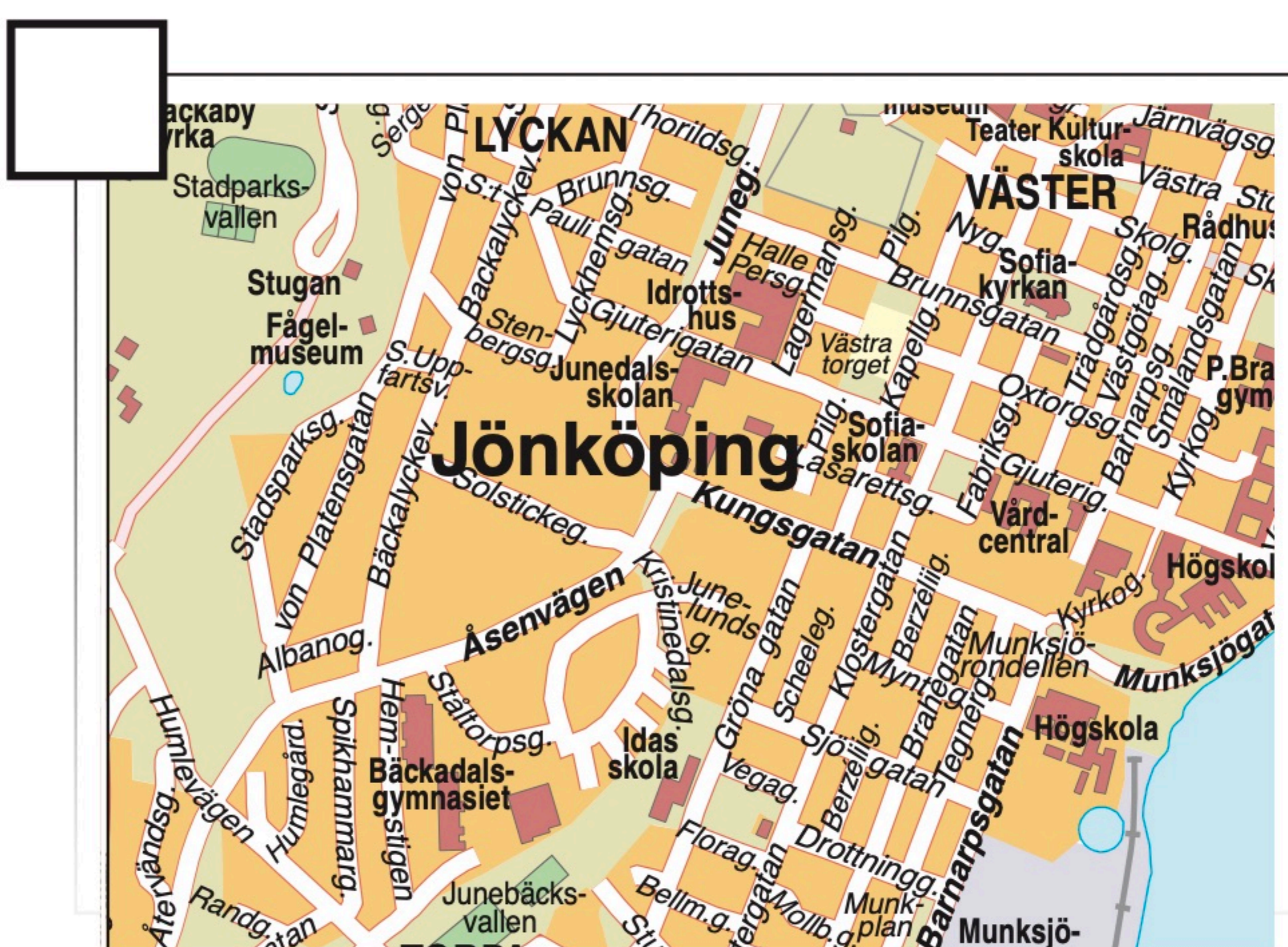
2

© 2013 Norstedts Kartor, Stockholm



3

© 2013 Norstedts Kartor, Stockholm



4

© 2013 Norstedts Kartor, Stockholm



21

Studera skalan på kartbladet. Använd en linjal som hjälp när du svarar på frågorna.



a) 5 cm på kartan = _____ m i verkligheten

b) 1 cm på kartan = _____ m i verkligheten

c) 10 cm på kartan = _____ m i verkligheten

22

a) Mät avståndet mellan Havregården och idrottsplatsen. Hur många cm är avståndet på kartan? Avrunda till heltal.

Svar: _____

b) Hur många meter är det mellan Havregården och idrottsplatsen i verkligheten?

Svar: _____

c) Mät avståndet mellan Koberget och Järnberget. Hur många cm är avståndet på kartan? Avrunda till heltal.

Svar: _____

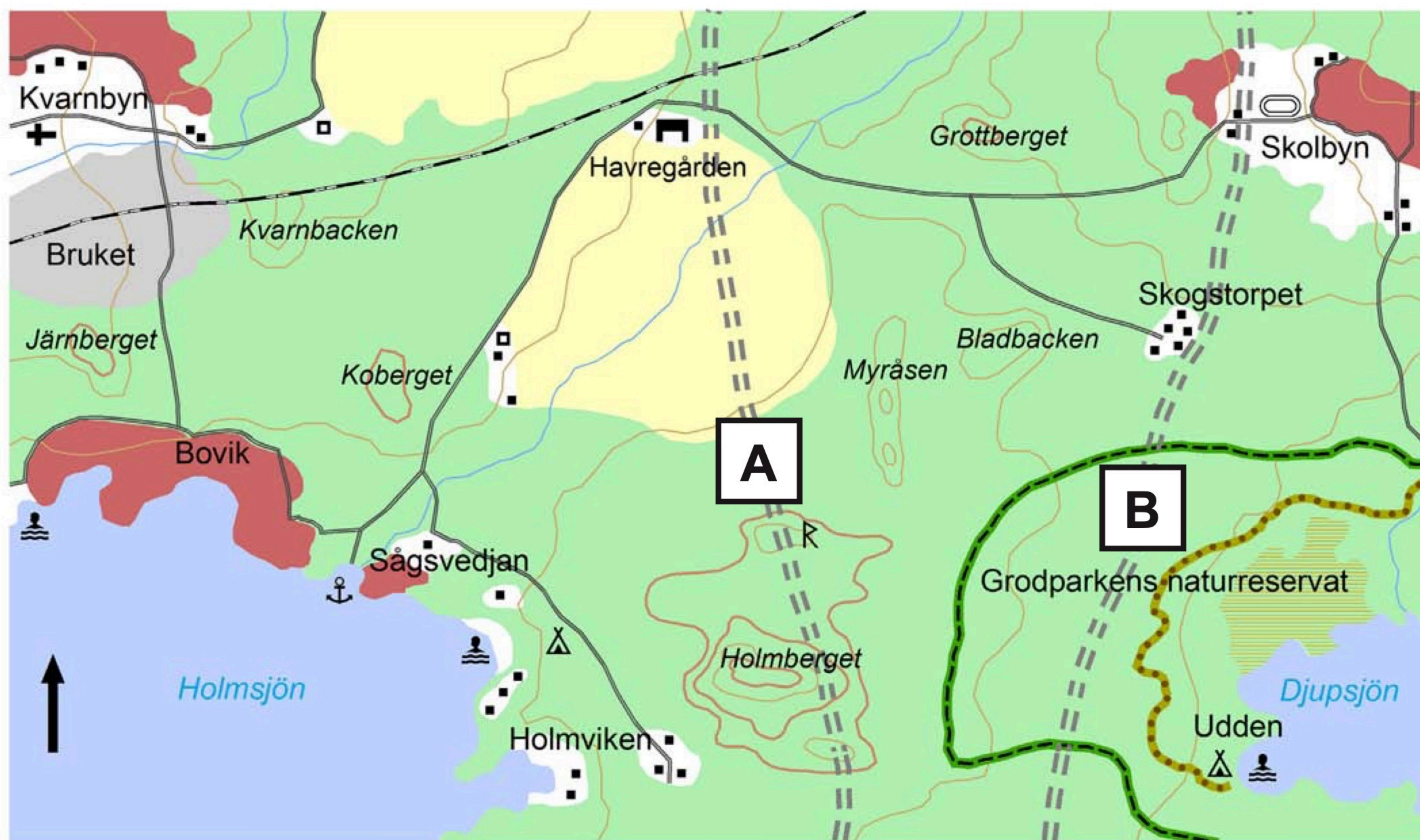
d) Hur många meter är det mellan Koberget och Järnberget i verkligheten?

Svar: _____



Ny väg i området

En ny väg mellan två stora städer ska byggas genom området. Det finns två tänkbara alternativ, A och B. Studera kartan som visar de två förslagen på vägdragning (A och B).



A

Väg A ska dras genom:

- Jordbruksmarken vid Havregården
- Fornlämningarna vid Holmberget (ett gravfält från järnåldern)
- Holmberget

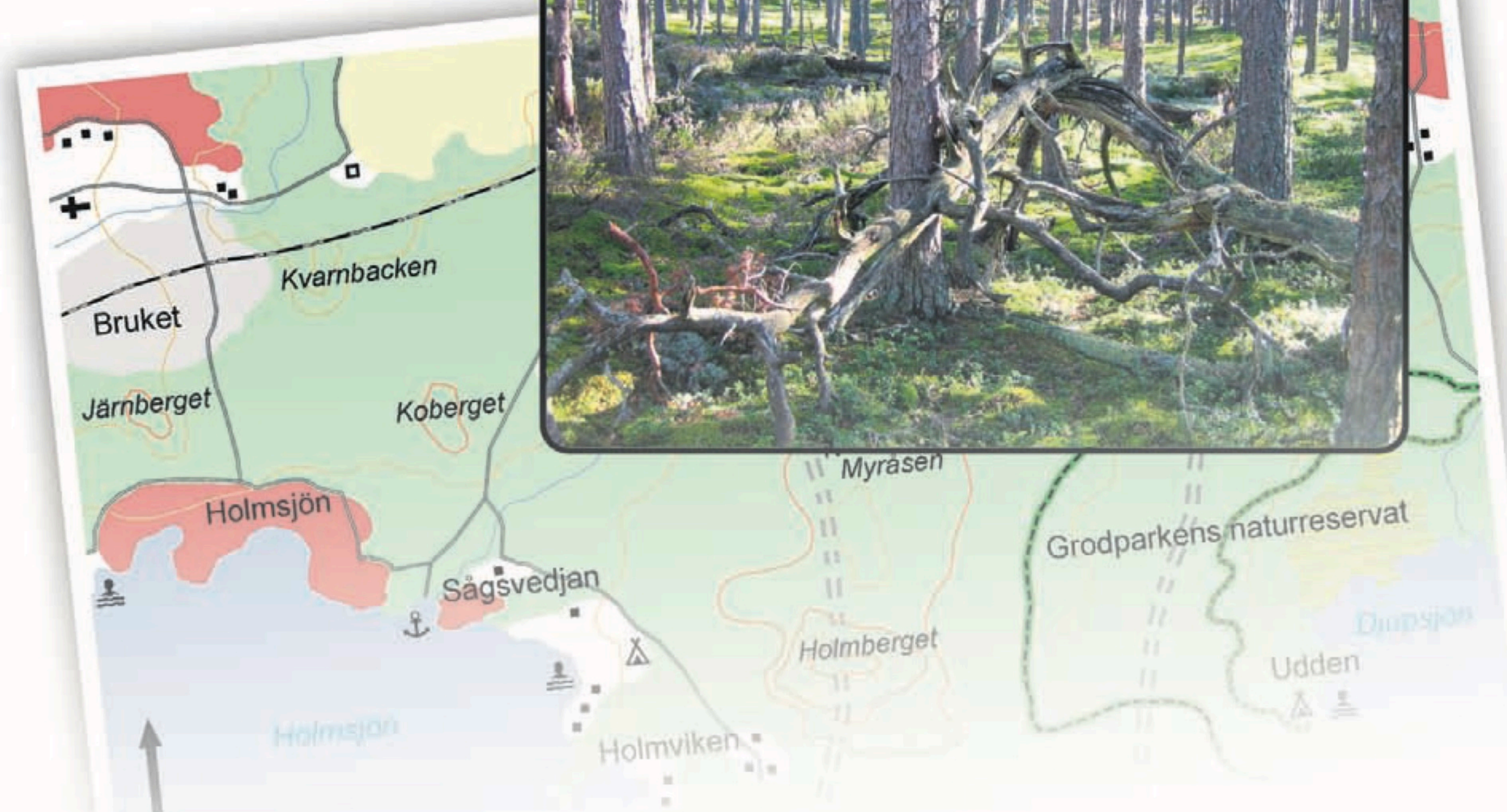
B

Väg B ska dras genom:

- Skolbyn, där skola, idrottsplats och affärer finns
- Naturreservat där en sällsynt grodart lever
- Ett friluftsområde med vandringsleder



Naturresevat



Resultatrapport

Förmåga 1	Belägg för E	Belägg för C	Belägg för A
Förmåga att analysera hur naturens egna processer och människors verksamheter formar och förändrar livsmiljöer i olika delar av världen	Delprov A	Delprov A	Delprov A
	Uppgift 1-2 <input type="checkbox"/>	Uppgift 1-2 <input type="checkbox"/>	Uppgift 1-2 <input type="checkbox"/>
	Uppgift 4 <input type="checkbox"/>		
	Uppgift 5 <input type="checkbox"/>	Uppgift 5 <input type="checkbox"/>	
	Uppgift 6 a <input type="checkbox"/>	Uppgift 6 a <input type="checkbox"/>	Uppgift 6 a <input type="checkbox"/>
	Uppgift 6 b <input type="checkbox"/>	Uppgift 6 b <input type="checkbox"/>	Uppgift 6 b <input type="checkbox"/>
	Uppgift 8 a <input type="checkbox"/>	Uppgift 8 a <input type="checkbox"/>	
	Delprov B	Delprov B	Delprov B
Uppgift 25 <input type="checkbox"/>	Uppgift 25 <input type="checkbox"/>	Uppgift 25 <input type="checkbox"/>	
Summa belägg på förmåga 1 <input type="text"/>	Antal belägg på E-nivå Max: 7 Eleven: <input type="text"/>	Antal belägg på C-nivå Max: 6 Eleven: <input type="text"/>	Antal belägg på A-nivå Max: 4 Eleven: <input type="text"/>
Förmåga 2	Belägg för E	Belägg för C	Belägg för A
Förmåga att utforska och analysera samspel mellan människa, samhälle och natur i olika delar av världen	Delprov A	Delprov A	Delprov A
	Uppgift 7 <input type="checkbox"/>	Uppgift 7 <input type="checkbox"/>	Uppgift 7 <input type="checkbox"/>
	Uppgift 8 b <input type="checkbox"/>	Uppgift 8 b <input type="checkbox"/>	Uppgift 8 b <input type="checkbox"/>
	Delprov B	Delprov B	Delprov B
	Uppgift 19 <input type="checkbox"/>	Uppgift 19 <input type="checkbox"/>	Uppgift 19 <input type="checkbox"/>
	Uppgift 27 <input type="checkbox"/>	Uppgift 27 <input type="checkbox"/>	Uppgift 27 <input type="checkbox"/>
Summa belägg på förmåga 2 <input type="text"/>	Antal belägg på E-nivå Max: 4 Eleven: <input type="text"/>	Antal belägg på C-nivå Max: 4 Eleven: <input type="text"/>	Antal belägg på A-nivå Max: 4 Eleven: <input type="text"/>
Förmåga 3	Belägg för E	Belägg för C	Belägg för A
Förmåga att göra geografiska analyser av omvärlden och värdera resultaten med hjälp av kartor och andra geografiska källor, teorier, metoder och tekniker	Delprov A	Delprov A	Delprov A
	Uppgift 9 <input type="checkbox"/>	Uppgift 9 <input type="checkbox"/>	Uppgift 9 <input type="checkbox"/>
	Uppgift 11 <input type="checkbox"/>	Uppgift 11 <input type="checkbox"/>	Uppgift 11 <input type="checkbox"/>
	Delprov B	Delprov B	Delprov B
	Uppgift 12-13 <input type="checkbox"/>	Uppgift 12-13 <input type="checkbox"/>	
	Uppgift 14-17 <input type="checkbox"/>	Uppgift 14-17 <input type="checkbox"/>	Uppgift 14-17 <input type="checkbox"/>
	Uppgift 18 <input type="checkbox"/>	Uppgift 18 <input type="checkbox"/>	Uppgift 18 <input type="checkbox"/>
	Uppgift 20-22 <input type="checkbox"/>	Uppgift 20-22 <input type="checkbox"/>	Uppgift 20-22 <input type="checkbox"/>
	Uppgift 23 <input type="checkbox"/>	Uppgift 23 <input type="checkbox"/>	
	Uppgift 24 <input type="checkbox"/>	Uppgift 24 <input type="checkbox"/>	Uppgift 24 <input type="checkbox"/>
Summa belägg på förmåga 3 <input type="text"/>	Antal belägg på E-nivå Max: 8 Eleven: <input type="text"/>	Antal belägg på C-nivå Max: 8 Eleven: <input type="text"/>	Antal belägg på A-nivå Max: 6 Eleven: <input type="text"/>
Förmåga 4	Belägg för E	Belägg för C	Belägg för A
Förmåga att värdera lösningar på olika miljö- och utvecklingsfrågor utifrån överväganden kring etik och hållbar utveckling	Delprov A	Delprov A	Delprov A
	Uppgift 3 a <input type="checkbox"/>	Uppgift 3 a <input type="checkbox"/>	Uppgift 3 a <input type="checkbox"/>
	Uppgift 3 b <input type="checkbox"/>	Uppgift 3 b <input type="checkbox"/>	Uppgift 3 b <input type="checkbox"/>
	Uppgift 10 <input type="checkbox"/>	Uppgift 10 <input type="checkbox"/>	Uppgift 10 <input type="checkbox"/>
	Delprov B	Delprov B	Delprov B
Uppgift 26 <input type="checkbox"/>	Uppgift 26 <input type="checkbox"/>	Uppgift 26 <input type="checkbox"/>	
Summa belägg på förmåga 4 <input type="text"/>	Antal belägg på E-nivå Max: 4 Eleven: <input type="text"/>	Antal belägg på C-nivå Max: 4 Eleven: <input type="text"/>	Antal belägg på A-nivå Max: 4 Eleven: <input type="text"/>
Summering	Belägg för E	Belägg för C	Belägg för A
Summa belägg	Summa belägg på E-nivå	Summa belägg på C-nivå	Summa belägg på A-nivå
Tot ant belägg: 63 Eleven: <input type="text"/>	Max: 23 Eleven: <input type="text"/>	Max: 22 Eleven: <input type="text"/>	Max: 18 Eleven: <input type="text"/>
Provbetyg: <input type="text"/>	Finns belägg för E på alla förmågor? Ja/Nej	Finns belägg för C på alla förmågor? Ja/I	



Allgot.se



Skapa lektioner, planeringar och material på Allgot.se - eller välj bland alla *tiotusentals* färdiga dokument som andra lärare skapat.



Allgot.se



Skapa lektioner, planeringar och material på **Allgot.se** - eller välj bland alla *tiotusentals* färdiga dokument som andra lärare skapat.



Allgot.se




Skapa lektioner, planeringar och material på **Allgot.se** - eller välj bland alla *tiotusentals* färdiga dokument som andra lärare skapat.



Allgot.se



Skapa lektioner, planeringar och material på **Allgot.se** - eller välj bland alla *tiotusentals* färdiga dokument som andra lärare skapat.



UPPSALA
UNIVERSITET

Institutionen för pedagogik, didaktik och utbildningsstudier



Allgot.se



Skapa lektioner, planeringar och material på **Allgot.se** - eller välj bland alla *tiotusentals* färdiga dokument som andra lärare skapat.

© Skolverket